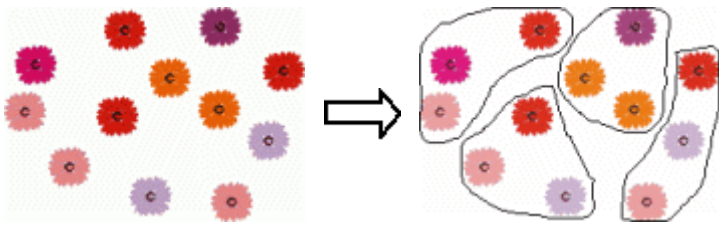








Division c'est faire des groupes

Il y a 12 marguerites. Faites des groupes de 3..



Combien de groupes?
Combien de 3 dans 12?

1. Divisez dans des groupes.

<p>a. Il y a ___ carottes. Faites des groupes de 5.</p>  <p>Combien de groupes? Combien de 5 dans ___?</p>	<p>b. Il y a ___ mûres. Faites des groupes de 4.</p>  <p>Combien de groupes? Combien de 4 dans ___?</p>	<p>c. Il y a ___ pommes. Faites des groupes de 3.</p>  <p>Combien de groupes? Combien de 3 dans ___?</p>
<p>d. Il y a ___ poissons. Faites des groupes de 2.</p>  <p>Combien de groupes? Combien de 2 dans ___?</p>	<p>e. Il y a ___ marguerites. Faites des groupes de 6.</p>  <p>Combien de groupes? Combien de 6 dans ___?</p>	<p>f. Il y a ___ chameaux. Faites des groupes de 4.</p>  <p>Combien de groupes? Combien de 4 dans ___?</p>